

ДЕМОНСТРАЦИОННАЯ ВЕРСИЯ
по физике
для проведения промежуточной аттестации 9 класс

Итоговый тест по физике. 9 класс. Вариант -1.

Часть-А

Инструкция по выполнению заданий №А1-16: выберите букву, соответствующую правильному варианту ответа, и запишите её в бланк ответов.

1. Относительно какого тела или частей тела пассажир, сидящий в движущемся вагоне, находится в состоянии покоя?

- А. вагона.
- Б. земли.
- В. колеса вагона.

2. При равноускоренном движении скорость тела за 5 с изменилась от 10 м/с до 25 м/с. Определите ускорение тела.

- А. 4 м/с²;
- Б. 2 м/с²;
- В. -2 м/с²;
- Г. 3 м/с².

3. Дана зависимость координаты от времени при равномерном движении: $x=2+3t$. Чему равны начальная координата и скорость тела?

- А. $x_0=2$, $V=3$;
- Б. $x_0=3$, $V=2$;
- В. $x_0=3$, $V=3$;
- Г. $x_0=2$, $V=2$.

4. Тело движется по окружности. Укажите направление ускорения (рисунок 1).

- А. ускорения – 4;
- Б. ускорения – 1;
- В. ускорения – 2;
- Г. ускорения – 3.

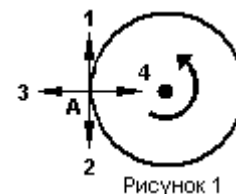


Рисунок 1

5. Под действием силы 10Н тело движется с ускорением 5м/с². Какова масса тела ?

- А. 2кг.
- Б. 0,5 кг.
- В. 50 кг.
- Г. 100кг.

6. Земля притягивает к себе подброшенный мяч силой 3 Н. С какой силой этот мяч притягивает к себе Землю?

- А. 30Н
- Б. 3Н
- В. 0,3Н
- Г. 0Н

7. Какая из приведенных формул выражает второй закон Ньютона?

- А. $F = G \frac{M}{R^2}$;
- Б. $\vec{F} = m \cdot \vec{a}$;
- В. $F = G \frac{m_1 m_2}{R^2}$;
- Г. $F = -kx$.

8. Как направлен импульс силы?

- А. по ускорению.
- Б. по скорости тела.
- В. по силе.
- Г. Среди ответов нет правильного.

9. Тележка массой 2 кг движущаяся со скоростью 3м/с и сталкивается с неподвижной тележкой массой 4 кг и сцепляется с ней. Определите скорость обеих тележек после взаимодействия?

- А. 1 м/с;
- Б. 0,5 м/с;
- В. 3 м/с;
- Г. 1,5 м/с.

10. По графику зависимости координаты колеблющегося тела от времени (см. рисунок 2) определите амплитуду колебаний.

- А. 10 м;
- Б. 6 м;
- В. 4 м;

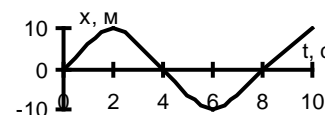


Рисунок 2

11. Камертон излучает звуковую волну длиной 0,5м. Какова частота колебаний камертона? Скорость звука в воздухе 340 м/с.

- А. 680Гц; Б. 170Гц; В. 17Гц; Г. 3400Гц.

12. Силовой характеристикой магнитного поля является:

- А. магнитный поток; Б. сила, действующая на проводник с током;
В. вектор магнитной индукции.

13. Определите частоту электромагнитной волны длиной 3 м.

- А. 10^{-8} Гц; Б. 10^{-7} Гц; В. 10^8 Гц; Г. 10^{-6} Гц.

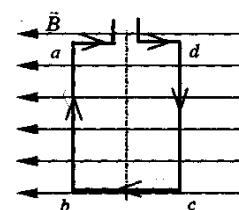
14. Сколько протонов содержит атом углерода $^{12}_6C$?

- А. 18
Б. 6
В. 12

15. Бетта- излучение- это:

- А. поток квантов излучения; Б. поток ядер атома гелия
В. Поток электронов ;

16. Квадратная рамка расположена в однородном магнитном поле, как показано на рисунке. Направление тока в рамке указано стрелками. Как направлена сила, действующая на стороны *ab* рамки со стороны магнитного поля?



- А. Перпендикулярно плоскости чертежа, от нас
Б. Перпендикулярно плоскости чертежа, к нам
В. Вертикально вверх, в плоскости чертежа
Г. Вертикально вниз, в плоскости чертежа

ЧАСТЬ-В

Инструкция по выполнению заданий №В1-В2: соотнесите написанное в столбцах

1 и 2. Запишите в соответствующие строки бланка ответов последовательность

букв из столбца 2, обозначающих правильные ответы на вопросы из столбца 1. Например:

№ задания	Вариант ответа
В1	243

В1. Установите соответствие между физическими открытиями и учеными

Открытие	Ученый
А) закон о передаче давления жидкостями и газами	1) Паскаль
Б) закон всемирного тяготения	2) Торричелли
В) открытие атмосферного давления	3) Архимед
	4) Ньютон

В2. Установите соответствие между приборами и физическими величинами

Прибор	Физические величины
А) психрометр	1) давление
Б) манометр	2) скорость
В) спидометр	3) сила
	4) влажность воздуха

ЧАСТЬ С:

задание с развернутым решением, умение решить задачу на применение изученных тем, законов, физических величин.

С1. Транспортёр равномерно поднимает груз массой 190кг на высоту 9м за 50с. Сила тока в электродвигателе 1,5А. КПД двигателя составляет 60%. Определите напряжение в электрической сети.